

## תפנית ארא

מבדק אמצע שנה "ל תשס"ה במתמטיקה

שכבה ג'

אסור להשתמש במחשבון  
לרשותכם שעתיים.

בהצלחה

---

(1) כתבו סימן מתאים  $=$ ,  $<$ ,  $>$  או  $\neq$

א.  $0 \times 8$  \_\_\_\_\_  $0 \times 9$

ב.  $0 + 10$  \_\_\_\_\_  $0 \times 10$

ג.  $12 + 0$  \_\_\_\_\_  $12 - 0$

---

כתבו בספרות :

(2) חמש מאות שמונים \_\_\_\_\_

(3) ששת אלפים וחמש מאות \_\_\_\_\_

---

כתבו במלים :

(4) 930 \_\_\_\_\_

(5) 8,032 \_\_\_\_\_

פתרו את התרגילים הבאים (ניתן לפתור במאונך)

$$654 + 32 = \quad (6)$$

$$68 + 348 = \quad (7)$$

$$998 - 38 = \quad (8)$$

$$741 - 53 = \quad (9)$$

---

(10) באוטובוס 50 ילדים .

בתחנה ירדו 20 ילדים .

כמה ילדים נשארו באוטובוס ?

תרגיל : \_\_\_\_\_

תשובה : \_\_\_\_\_

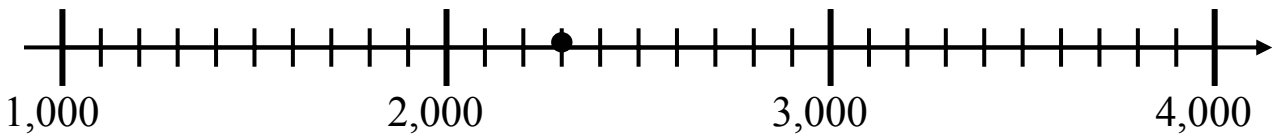
---

פתרו :

$$100 \times 35 = \quad (11)$$

$$120 : 10 = \quad (12)$$

13) כתבו מספר מתאים לנקודה המודגשת על הישר \_\_\_\_\_



14) לדני יש 40 שקלים .  
אבא נתן לו עוד 10 שקלים .  
כמה פסף נשאר לדני , אם הוא קנה כדור ב-15 שקלים ?

תרגיל : \_\_\_\_\_

תשובה : \_\_\_\_\_

השלימו את המספרים החסרים :

$$110 + \underline{\hspace{2cm}} = 240 \quad (15)$$

$$1,000 - \underline{\hspace{2cm}} = 350 \quad (16)$$

$$340 + 40 = \underline{\hspace{2cm}} + 80 \quad (17)$$

18) בכתה יש 5 מדפים . על כל מדף יש 10 ספרים .

כמה ספרים יש בסך הכל ?

תרגיל : \_\_\_\_\_

תשובה : \_\_\_\_\_

**פתרו :**

$$6 \times 7 = \underline{\hspace{2cm}} \quad (19)$$

$$8 \times 8 = \underline{\hspace{2cm}} \quad (20)$$

$$28 : 7 = \underline{\hspace{2cm}} \quad (21)$$

$$36 : 4 = \underline{\hspace{2cm}} \quad (22)$$

---

(23) המורה קנתה 35 עפרונות , 20 עטים ו- 14 חוברות .  
כמה כלי כתיבה קנתה המורה ?

תרגיל : \_\_\_\_\_

תשובה : \_\_\_\_\_

---

**השלימו ספרות מתאימות :**

$$8 \_ 9 > 859 \quad (24)$$

$$1 , \_ 99 < 1 , \_ 39 \quad (25)$$

---


(26) הקיפו את המספר בו הספרה 3 מוצגת את הערך הגדול ביותר :

9,003      3,111      1,536      2,300


---

(27) כתבו מספר תלת ספרתי , שספרת העשרות שלו 4 \_\_\_\_\_


**בַּחֲנוּת הַצְעָצוּעִים מוֹכְרִים אֶת הַצְעָצוּעִים הָאֵלֶּה בְּמִבְצָע :**




שַׁקִּית גּוּלוֹת 8 ש"ח



בִּבְּה 20 ש"ח



עֶפִיפּוֹן 18 ש"ח



מְכוֹנִית 25 ש"ח

(28) לְרַחֵל יֵשׁ 40 ש"ח .

רַחֵל רוֹצֵה לְקַנּוֹת שְׁנֵי צְעָצוּעִים שׁוֹנִים וּלְקַבֵּל עוֹדָף.

הַצִּיעוּ לְרַחֵל אֵיזָה צְעָצוּעִים הֵיא יְכוּלָה לְקַנּוֹת \_\_\_\_\_ , \_\_\_\_\_

(29) לְמִשָּׁה יֵשׁ 25 ש"ח .

הֵאֵם מִשָּׁה יְכוּל לְקַנּוֹת שְׁנֵי צְעָצוּעִים שׁוֹנִים ? \_\_\_\_\_  
הִסְבִּירוּ תְּשׁוּבָתְכֶם \_\_\_\_\_

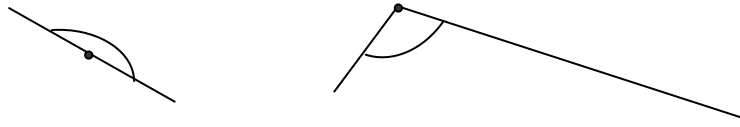
\_\_\_\_\_

(30) רוֹנִית רוֹצֵה לְקַנּוֹת אֶת כָּל אַרְבַּעַת הַצְעָצוּעִים .


כַּמָּה כֶּסֶף עָלֶיהָ לְשַׁלֵּם ?

\_\_\_\_\_

הקיפו את הזווית הגדולה בכל זוג זוויות .



(31)



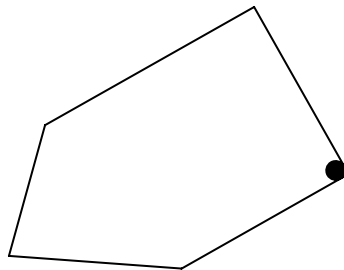
(32)

---

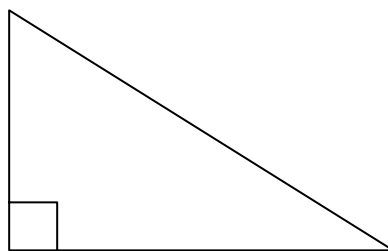
(33) סרטטו זווית חדה .

---

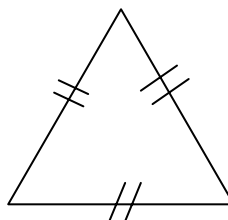
(34) סרטטו את כל האלכסונים מהקדקוד המודגש במצולע.



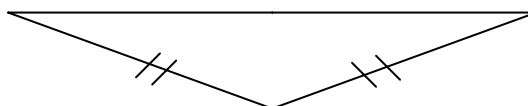
כתבו מתחת לכל משולש את שמו, על פי הזוויות או על פי הצלעות.



\_\_\_\_\_ משולש (35)




\_\_\_\_\_ משולש (36)



\_\_\_\_\_ משולש (37)

---


(38) הקיפו את המצולעים שיש בהם זווית ישרה.



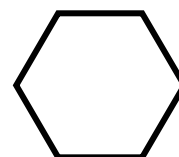
רבווע



מקבילית



מלבן



משש

(39) כתבו ליד כל משפט נכון או לא נכון .

לכל מרבע יש ארבע צלעות \_\_\_\_\_

בכל משולש כל הצלעות שוות \_\_\_\_\_

במשולש אין אלכסון \_\_\_\_\_

---

(40) הקיפו את המצולע שאינו מרבע :

