

**תוכנית תפנית**  
**מבדק תחילת שנה"ל תשס"ו במתמטיקה**  
**שכבה ג'**

שם פרטי : \_\_\_\_\_ שם משפחה : \_\_\_\_\_  
כיתה : \_\_\_\_\_ שם ביה"ס : \_\_\_\_\_ שם הישוב : \_\_\_\_\_

- מותר שימוש באמצעי המחשה .
- לרשותכם שעתיים .

בהצלחה

---

**פתרו:**

(1)  $32 + 15 = \underline{\hspace{2cm}}$

(2)  $70 - 12 = \underline{\hspace{2cm}}$

(3)  $45 + 15 = \underline{\hspace{2cm}}$

(4)  $81 - 29 = \underline{\hspace{2cm}}$

**כתבו מספר מתאים :**

89 < \_\_\_\_\_ (5)

65 < \_\_\_\_\_ < 75 (6)

---

**כתבו בספרות:** (7)

שבעים ושמונה \_\_\_\_\_

---

**כתבו במילים:** (8)

53 \_\_\_\_\_

---

(9) למשה יש 35 גולות .

14 מהם לבנות והשאר צבעוניות .

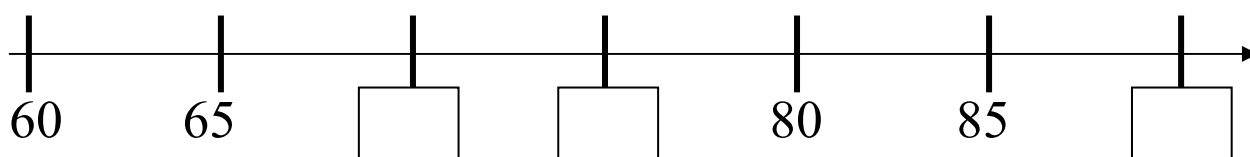
כמה גולות צבעוניות למשה ?

תרגיל : \_\_\_\_\_

תשובה : \_\_\_\_\_

---

(10) **כתבו במלבנים מספרים מתאימים .**



11) על מדף בחנות יש 28 עטים ו-70 עפרונות .

כמה כלי כתיבה יש על המדף ?

תרגיל : \_\_\_\_\_

תשובה : \_\_\_\_\_

---

**השלימו :**

$$40 - \underline{\quad} = 33 \quad (12)$$

$$\underline{\quad} + 50 = 68 \quad (13)$$

$$\underline{\quad} + \underline{\quad} < 80 \quad (14)$$

---

15) בתחילת המשחק היו בגן המשחקים 23 ילדים , בסוף המשחק

היו 45 ילדים .

כמה ילדים הצטרפו למשחק ?

תרגיל : \_\_\_\_\_

תשובה : \_\_\_\_\_

---

**פתרו :**

$$6 \times 5 = \underline{\quad} \quad (16)$$

$$28 : 7 = \underline{\quad} \quad (17)$$

---

**השלימו :**

$$\underline{\quad} \times 5 = 30 \quad (18)$$

$$28 : \underline{\quad} = 4 \quad (19)$$

(20) כמה יעלו 5 מחברות, אם מחברת אחת עולה 3 שקלים ?

תרגיל : \_\_\_\_\_

תשובה : \_\_\_\_\_

---

### השלימו :

$$6 \times \underline{\quad} = 18 \quad (21)$$

$$\underline{\quad} : 2 = 10 \quad (22)$$

---

### פתרו :

$$20 - 5 + 5 = \underline{\quad} \quad (23)$$

$$5 \times (3 - 2) = \underline{\quad} \quad (24)$$

---

### השלימו מספר מתאים ופתרו :

(25) לנועה היו 45 מדבקות .

נועה קיבלה עוד \_\_\_\_\_ מדבקות .

כמה מדבקות יש לנועה כעת ?

תרגיל : \_\_\_\_\_

תשובה : \_\_\_\_\_

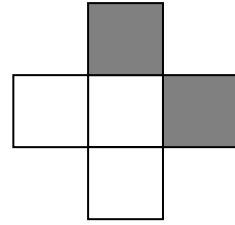
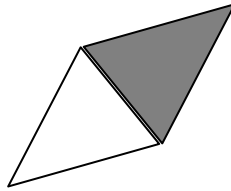
---

(26) אני קטן מן המספר 85 ב-13 . מי אני ? \_\_\_\_\_

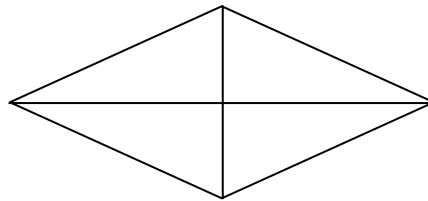
(27) איזה מספר נקבל אם נגדיל את המספר 51 ב-6 ? \_\_\_\_\_

---

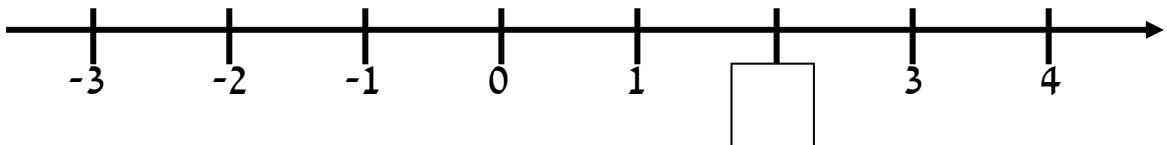
(28) הקיפו צורה שחצי ממנה צבוע .



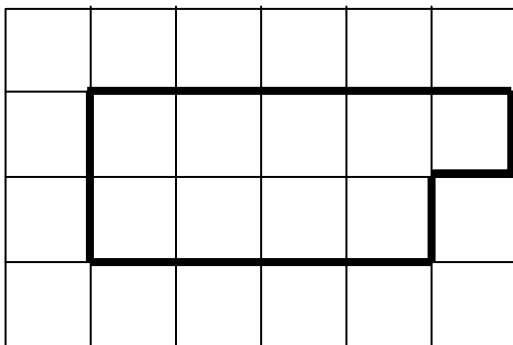
(29) צבעו רבע מהצורה .




(30) השלימו את המספר החסר במשבצת .




מצאו את ההיקף של הצורה שלפניכם .



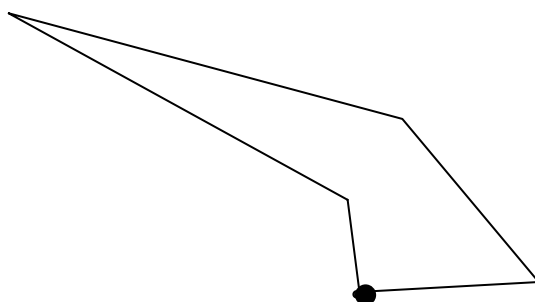
(31) היקף הצורה \_\_\_ יחידות 

(32) = יחידה .

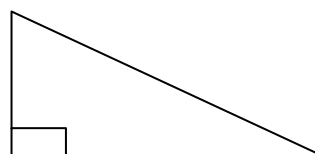
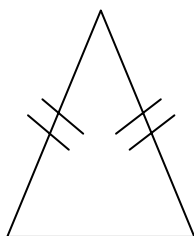
ציירו צורה ששטחה 6 יחידות .



(33) סרטטו שני אלכסונים מהקודקוד המודגש .



כתבו שם מתאים לכל משולש ( היעזרו במחסן השמות ).

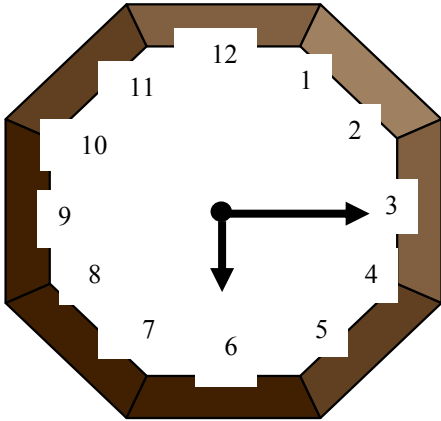


משולש (35)

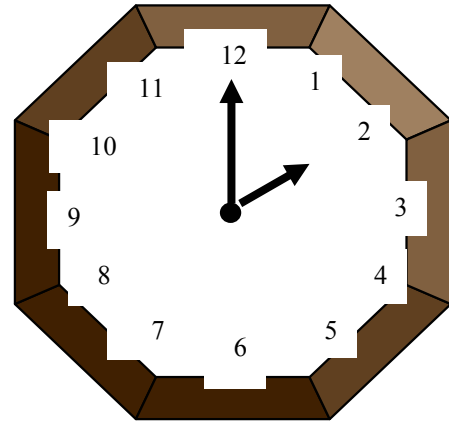
משולש (34)

מחסן מילים : משולש שווה צלעות , משולש ישר זווית , משולש שווה שוקיים .

(36) כתבו את השעה שמראה כל שעון .

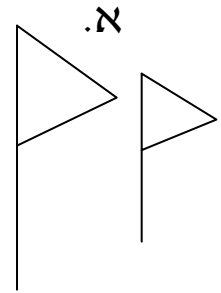

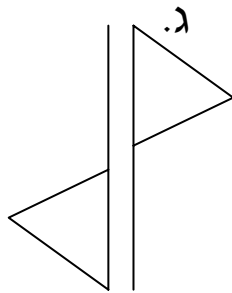
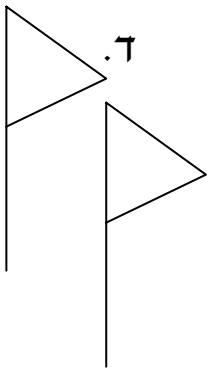


\_\_\_\_\_ השעה

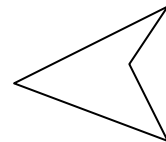
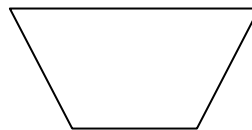




\_\_\_\_\_ השעה


(37) הקיפו את הציור שהתקבל על ידי הזזה .



(38) הקיפו את המקבילית .



39) התבוננו במאזניים וענו על השאלה .



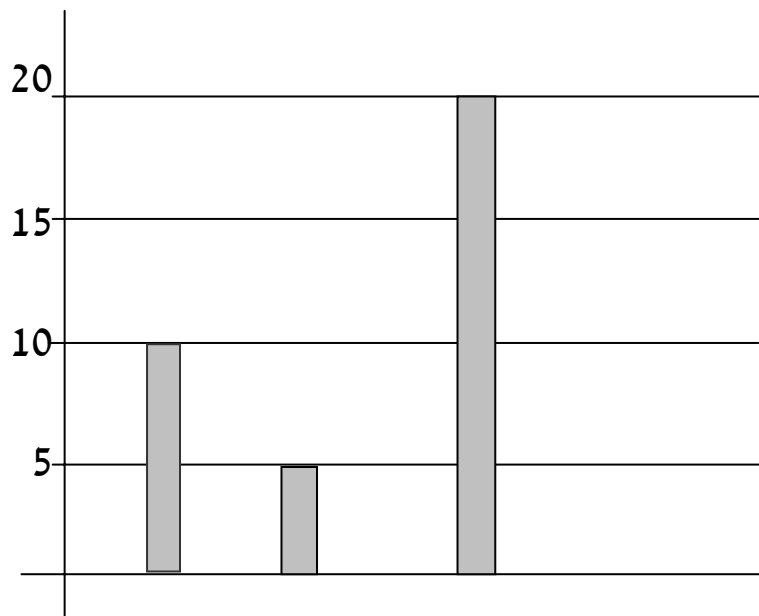
א. מי שוקל יותר , שני כדורים או מטוס ? \_\_\_\_\_

ב. הסבירו כיצד הגעתם לתשובה \_\_\_\_\_

\_\_\_\_\_

40) תלמידי כיתה ג' ערכו דיאגרמה לפי סוג החטיף שכל ילד אוהב .

מספר  
תלמידים



סוג החטיף ביסלי ציפס במבה

א. כמה ילדים אוהבים ביסלי ? \_\_\_\_\_

ב. מהו החטיף האהוב ביותר על הילדים ? \_\_\_\_\_